

12 de junio- 1º A

Lengua.- Comprensión lectora: El gigante egoísta.

Matemáticas- Numeración y problemas.

Plástica – Mandala de primavera.

En este enlace encontrarás muchas manualidades de primavera

<https://www.decoideas.net/manualidades-de-primavera/>

Valores – “El gigante egoísta“ Visionado del cuento en el blog o sigue el enlace.

<https://www.youtube.com/watch?v=w6cJiU2NxqM>

Se imprimen las fichas o se hace en hojas o libreta, esforzándote en la letra y la presentación de los trabajos.

En la página de Anaya tienes muchos recursos que te sirven para repasar.

No te olvides entrar en el blog y vete haciendo las actividades.

Una vez terminadas, pones el nombre y me la mandas. No le des a comprobar respuestas, porque no te deja enviarla y tienes que volver a repetirla.

EL GIGANTE EGOÍSTA

Los niños, cuando salían de la escuela en primavera, acostumbraban a jugar en el jardín del Gigante.

Un día, el Gigante, que era muy egoísta, tomó la decisión de prohibir a los niños jugar en su jardín. Pero cuando volvió de nuevo la primavera, toda la comarca se pobló de pájaros y flores, excepto el jardín del Gigante. La Nieve y la Escarcha se quedaron en el jardín para siempre.

Así siempre fue allí invierno. Pero un día el Gigante se arrepintió de haber sido tan egoísta.

Una mañana, estaba todavía el Gigante en la cama, cuando oyó cantar a un jilguero. Los niños habían entrado en el jardín por un agujero, y con ellos volvió la primavera.

Los árboles se habían cubierto de hojas, los pájaros volaban piando alegremente, las flores se asomaban entre la hierba verde.

Y el Gigante se sentía feliz en el jardín jugando con los niños.

Oscar Wilde

Responde

- ¿Cómo se titula el cuento? _____

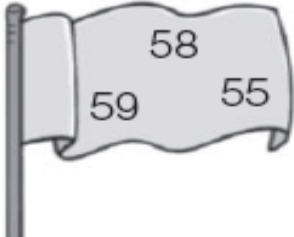
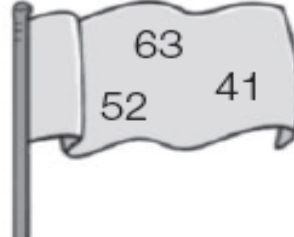
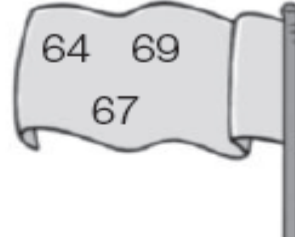
- ¿Dónde acostumbraban a jugar los niños? _____

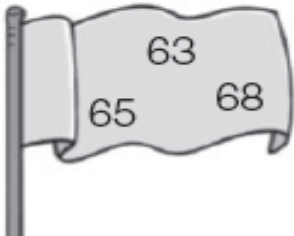
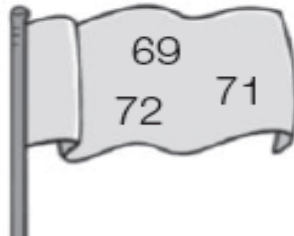
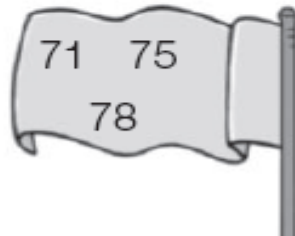
- ¿En qué estación juegan los niños? _____

- ¿Por qué el invierno se quedó en el jardín del gigante? _____

MATEMÁTICAS

1. Escribe el número mayor de cada bandera en su recuadro. Después completa las series.

		
<input type="text"/>	<input type="text"/>	<input type="text"/>

		
<input type="text"/>	<input type="text"/>	<input type="text"/>

2. Escribe > o < según corresponda.

$83 \circ 31$

$38 \circ 68$

$66 \circ 99$

$85 \circ 40$

$75 \circ 97$

$42 \circ 51$

3. Problemas

Tacha el dato que no necesites y piensa si tienes que sumar o restar. Después, resuelve.

1. Ricardo tenía 34 rotuladores y 10 lápices. Ha perdido 12 rotuladores.
¿Cuántos rotuladores tiene ahora?

Operación

Solución

2. Elisa tenía 57 céntimos en su hucha y 23 céntimos en su monedero.
Pone 22 céntimos más en la hucha.
¿Cuántos céntimos tiene ahora en la hucha?

Operación

Solución

