







## Y ahora... Resuelve

7. Completa la tabla con las cantidades totales que ha valido cada producto y contesta a las preguntas.

Producto	Cantidad	Precio del kilo	Total
 Patatas	10 kg	1 €	
	1 kg	1 €	
	3 kg	2 €	
	1 kg	3 €	
	4 kg	1 €	
 Cebollas	5 kg	1 €	

- ¿En qué producto se ha gastado más dinero? .....
- ¿Cuál es el producto en el que cuesta más un kilo? .....
- Calcula el precio total de la compra.



Solución

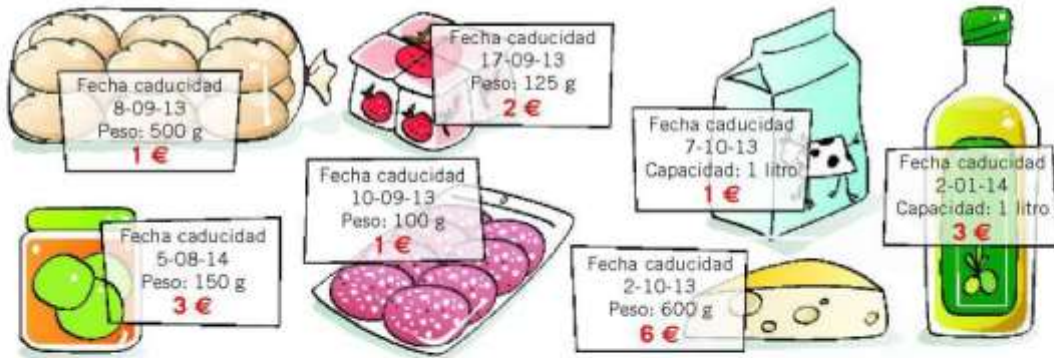
.....  
 .....

- ¿Qué productos se podrían comprar con 20 €? .....
- .....  
 .....

4

Lee y comprende

1. Observa la etiqueta de estos productos, completa la tabla y responde a las preguntas.



Producto	Peso Capacidad	Precio	Fecha de elaboración	Tiempo de duración	Fecha de caducidad
Panecillos				1 semana	
Yogures				15 días	
Leche				6 meses	
Aceite				1 año	
Mermelada				1 año	
Embutido				10 días	
Queso				1 mes	

- ¿Cuál es el producto más caro? .....
- ¿Cuál es el producto que pesa menos? .....
- ¿Cuál es el producto que caduca antes? .....
- ¿Cuál es el producto que se conserva durante más tiempo? .....
- Hoy es 3 de septiembre de 2013, si quiero comprar productos que me duren al menos un mes, ¿qué productos puedo comprar? .....
- ¿Qué comprarías con 10 €? .....