

**1** Escribe el número posterior en cada caso.

seiscientos ochenta y nueve →

$600 + 60 + 9$  →

seiscientos siete →

$600 + 90$  →

quinientos noventa y nueve →

$600 + 10 + 9$  →

**2** Suma y relaciona con su periódico.

$$\begin{array}{r} 327 \\ 157 \\ + 23 \\ \hline \end{array}$$

$$\begin{array}{r} 439 \\ 152 \\ + 29 \\ \hline \end{array}$$

$$\begin{array}{r} 258 \\ 305 \\ + 22 \\ \hline \end{array}$$

$$\begin{array}{r} 318 \\ 139 \\ + 123 \\ \hline \end{array}$$

$$\begin{array}{r} 423 \\ 118 \\ + 78 \\ \hline \end{array}$$



$600 + 20$



$500 + 80 + 5$



$500 + 7$



$600 + 10 + 9$



$500 + 80$

**3** Lee, colorea la operación correcta y resuelve.

En la tienda de informática se vendieron 178 tabletas y 307 ordenadores portátiles en la última semana. ¿Cuántos portátiles más que tabletas se han vendido?

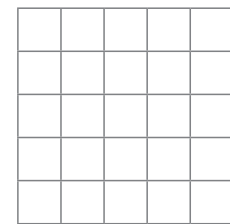


Tabletas →

$307 - 178$

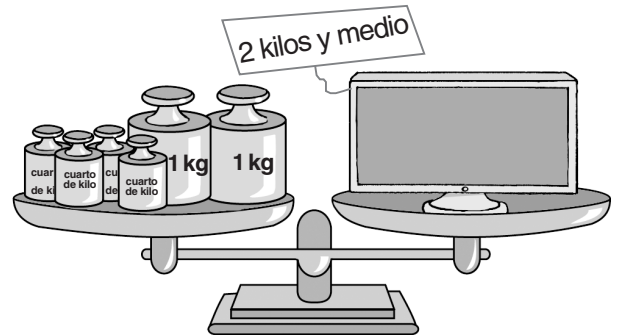
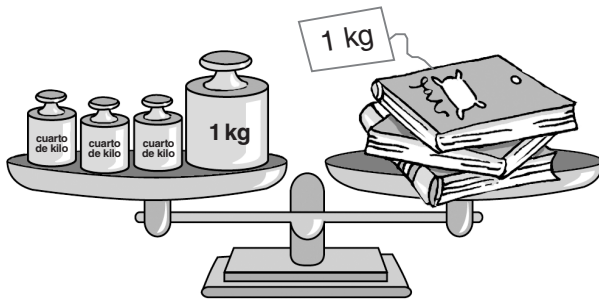
Portátiles →

$307 + 178$



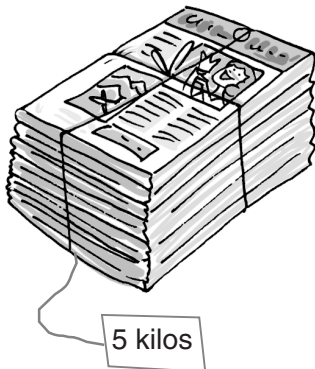


Se han vendido  portátiles más.

4 Tacha las pesas que sobran para que la balanza esté equilibrada.



5 Rodea las pesas que sumen el peso de cada paquete.



82

7 Nombre y apellidos: \_\_\_\_\_ Fecha: \_\_\_\_\_ Matemáticas 2.º EV

1 Escribe el número posterior en cada caso.

seiscientos ochenta y nueve → **690**       $600 + 60 + 9 \rightarrow$  **670**  
 seiscientos siete → **608**       $600 + 90 \rightarrow$  **691**  
 quinientos noventa y nueve → **700**       $600 + 10 + 9 \rightarrow$  **620**

2 Suma y relaciona con su periódico.

$\begin{array}{r} 327 \\ 157 \\ + 23 \\ \hline \end{array}$	$\begin{array}{r} 439 \\ 152 \\ + 29 \\ \hline \end{array}$	$\begin{array}{r} 258 \\ 305 \\ + 22 \\ \hline \end{array}$	$\begin{array}{r} 318 \\ 139 \\ + 123 \\ \hline \end{array}$	$\begin{array}{r} 423 \\ 118 \\ + 78 \\ \hline \end{array}$
<b>507</b>	<b>620</b>	<b>585</b>	<b>580</b>	<b>619</b>

3 Lee, colorear la operación correcta y resuelve.

En la tienda de informática se vendieron 178 tabletas y 307 ordenadores portátiles en la última semana. ¿Cuántos portátiles más que tabletas se han vendido?

Tabletás → **178**      **307 - 178**  
 Portátiles → **307**      **307 + 178**

Se han vendido **129** portátiles más.

© Grupo Anaya, S.A. Material fotocopiable autorizado.


Área fotocopiable

# EVALUACIÓN

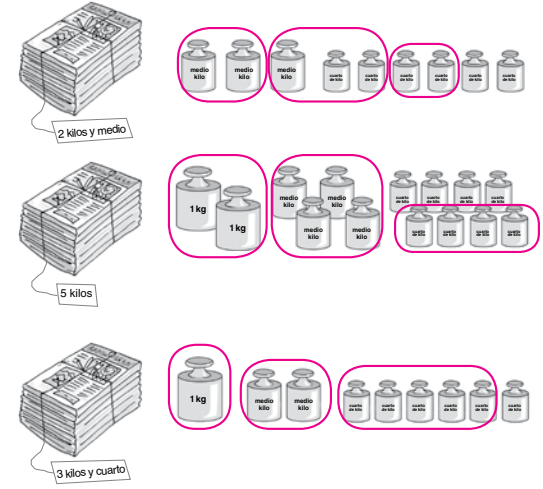
83

7 Nombre y apellidos: \_\_\_\_\_ Matemáticas 2.º EV

4 Tacha las pesas que sobran para que la balanza esté equilibrada.



5 Rodea las pesas que sumen el peso de cada paquete.



© Grupo Anaya, S.A. Material fotocopiable autorizado.

Área fotocopiable

# EVALUACIÓN

85