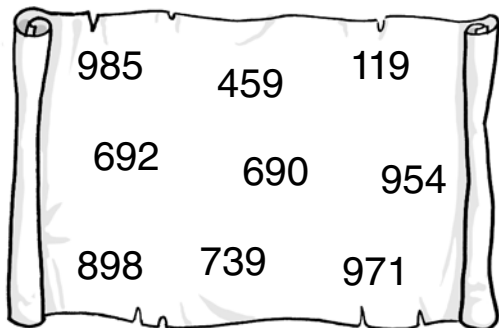


1 Clasifica los números siguientes.



Su cifra 9 vale 9 U →

Su cifra 9 vale 90 U →

Su cifra 9 vale 900 U →

2 Ordena los números de la actividad anterior.

< < < < < < < <

3 Completa y escribe la descomposición.



Tengo tantas espinas como el número anterior a 900.

→ + +



Mi número de espinas tiene 9 C y 9 U.



→ + +



Las mías están entre 918 y 922, y son pares.

→ + +

4 Colorea los resultados de las tablas del 3 y del 4.

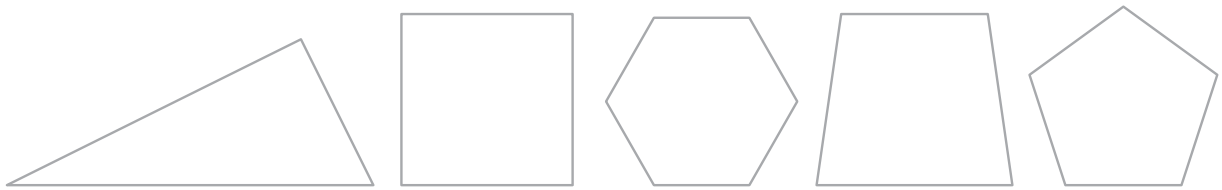


5 Lee y resuelve:

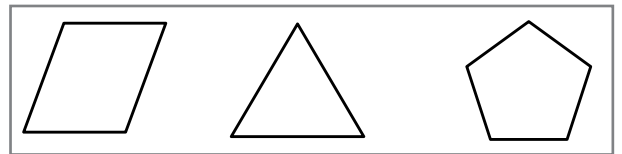
Mi abuela ha plantado en su jardín 4 filas de tulipanes. Si en cada fila hay 8 tulipanes, ¿cuántos tulipanes ha plantado en total?

$$\square \times \square = \square$$

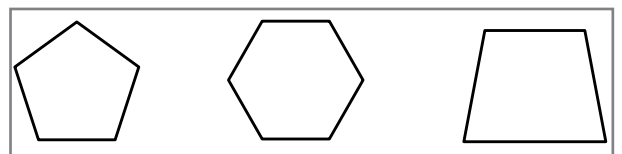
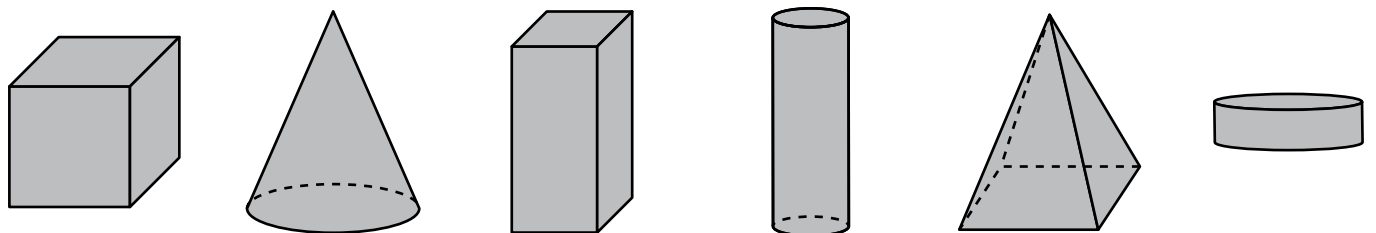
Ha plantado tulipanes.

**6** Señala los lados del pentágono en azul, los ángulos del triángulo en rojo y los vértices del hexágono en verde.**7** Colorea el polígono que corresponde.

Tengo 3 ángulos y 3 lados; soy un... →



Tengo 5 lados y 5 vértices; soy un... →

**8** Cuenta cuántos círculos y cuántas circunferencias hay en este dibujo.

Círculos →

Circunferencias →



10 Nombre y apellidos: _____ Fecha: _____ Matemáticas 2.º EV

1 Clasifica los números siguientes.

985	459	119	Su cifra 9 vale 9 U →	119	459	739
692	690	954	Su cifra 9 vale 90 U →	692	690	898
898	739	971	Su cifra 9 vale 900 U →	985	954	971

2 Ordena los números de la actividad anterior.

119 < 459 < 690 < 692 < 739 < 898 < 954 < 971 < 985

3 Completa y escribe la descomposición.

Tengo tantas espinas como el número anterior a 900. $899 \rightarrow 800 + 90 + 9$

Mi número de espinas tiene 9 C y 9 U. $909 \rightarrow 900 + 0 + 9$

Las mías están entre 918 y 922, y son pares. $920 \rightarrow 900 + 20 + 0$

4 Colorea los resultados de las tablas del 3 y del 4.

112

Área fotocopiable

EVALUACIÓN

© Grupo Anaya, S.A. Material fotocopiable autorizado.

10 Nombre y apellidos: _____ Matemáticas 2.º EV

5 Lee y resuelve:

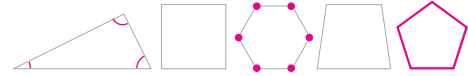
Mi abuela ha plantado en su jardín 4 filas de tulipanes. Si en cada fila hay 8 tulipanes, ¿cuántos tulipanes ha plantado en total?

$4 \times 8 = 32$

Ha plantado 32 tulipanes.



6 Señala los lados del pentágono en azul, los ángulos del triángulo en rojo y los vértices del hexágono en verde.

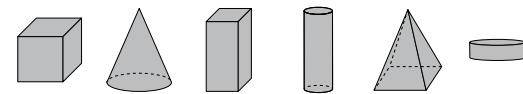


7 Colorea el polígono que corresponde.

Tengo 3 ángulos y 3 lados; soy un... →

Tengo 5 lados y 5 vértices; soy un... →

8 Cuenta cuántos círculos y cuántas circunferencias hay en este dibujo.



Círculos → 5

Circunferencias → 5

113

Área fotocopiable

EVALUACIÓN

© Grupo Anaya, S.A. Material fotocopiable autorizado.