

7 de mayo

¡Buenos días Aventureros! ¿Qué tal va el poema de Gloria Fuertes? ¿Ya os habéis aprendido un fragmento? ¡Venga, que es muy fácil! ¿Habéis completado ya su biografía? Ya he visto que la mayoría sois unos investigadores estupendos y habéis encontrado toda la información. Vamos con las actividades para hoy.

EL MAR

¿Cómo suena el mar?

Cuando estamos cerca del mar podemos distinguir muchos sonidos distintos: cuando esta calmado, suena a tranquilidad, si esta enfurecido nos da miedo, las gaviotas anuncian que llega una lancha pesquera, las voces de los niños jugando, el motor de un barco...

Escuchad atentamente:

1. <https://www.youtube.com/watch?v=XplPdozpNnk>
2. <https://www.youtube.com/watch?v=dOAUYNga5q8>
3. <https://www.youtube.com/watch?v=K9qFTYwS-uA>
4. <https://www.youtube.com/watch?v=WI0s9euRtCE>
5. <https://www.youtube.com/watch?v=trdhypIYhTw>
6. <https://www.youtube.com/watch?v=4lyHBltI9vc>

Escribe una lista con los sonidos que aparecen en los 6 vídeos.

- | | |
|-----|-----|
| 1 - | 4 - |
| 2 - | 5 - |
| 3 - | 6 - |

Graba sonidos del mar y envíalos al wasap del grupo. Puedes grabarlos directamente de la playa o buscar alguno en internet y grabarlo. A ver si adivinamos qué suena.

El sentido del oído

Presta atención a este vídeo. Visualízalo las veces que te haga falta para poder contestar a las preguntas.

<https://www.youtube.com/watch?v=RGypVuzAqkc>

Completa las partes del oído

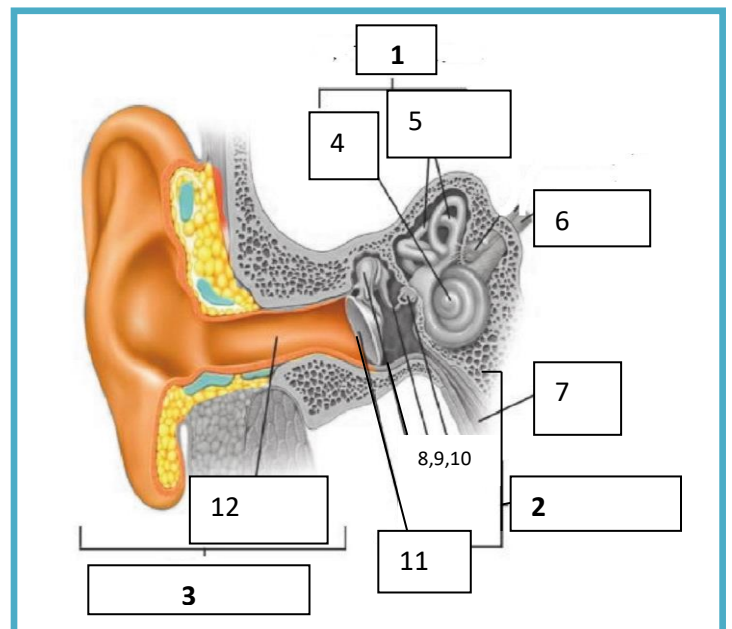
- | | |
|----|----|
| 1- | 7- |
| 2- | 8- |
| 3- | 9 |
| 4- | 10 |
| 5- | 11 |
| 6- | 12 |

Haz un esquema de las partes del oído

A jugar!

<https://cienciasnaturales.didactalia.net/recurso/sentido-del-oido-primaria/83c41e33-5330-42a9-8519-087d2dbb20da>

<https://www.cerebriti.com/juegos-de-ciencias/partes-del-oido->



Un nuevo reto

Despliegues del cubo

¿Qué forma tienen?

Como siempre, comenzamos con un vídeo de nuestros amigos Los Bmath

[Vídeo "Despliegues del cubo"](#)


¿Adivinasteis las preguntas?

- ¿Qué cuerpo geométrico es? Un cubo.
- ¿Cuántas caras tiene? 6.
- ¿Qué figura forma cada cara? Cuadrado.
- Y si y lo desplegamos, ¿cómo será? 6 cuadrados unidos por los lados.



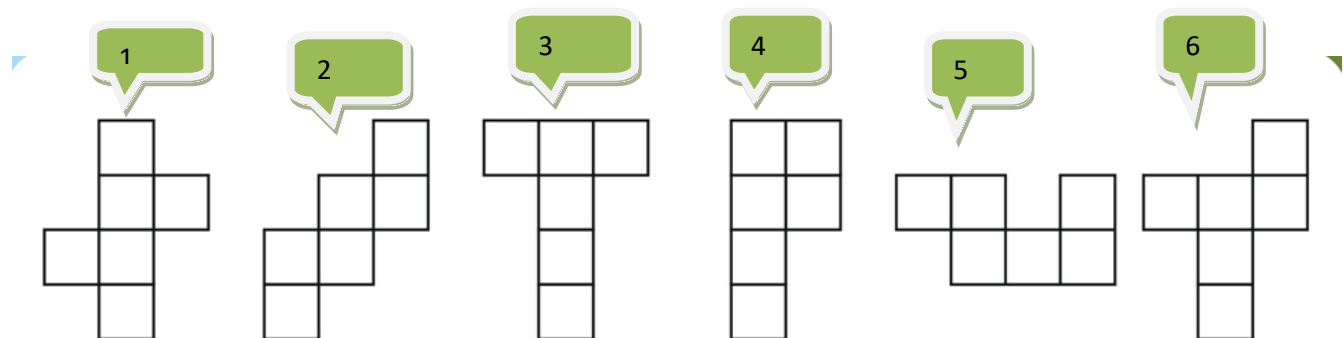
¿Creéis que solo hay una forma posible de desplegar un cubo?

Efectivamente, existen más despliegues del cubo, además del que hemos visto en el vídeo.



Actividad 1

Observa las siguientes figuras. ¿Cuáles de ellas crees que son despliegues del cubo? Es decir, ¿Cuáles podrían entrar en la máquina del vídeo y formar un cubo y cuáles no?



Copia las figuras y recórtalas, así será más fácil comprobar cuáles son despliegues del cubo y cuáles no.

¡MAÑANA MÁS!